


KHỞI
ĐỘNG





Hôm nay mình sẽ đi du lịch đến một địa điểm bí mật. Các bạn hãy giúp mình hoàn thành thử thách để khám phá xem đó là địa điểm nào nhé!



TRÒ CHƠI

Lật
mảnh ghép



1

2

3


4





$$20 \text{ tấn} \times 4 = ?$$

80 tấn



$364 \text{ y\u00ean} - 198 \text{ y\u00ean} = ?$

166 y\u00ean



5 yến 5 kg = ...?..kg

55 kg



4 tạ 4 kg = ..?..kg

404 kg

Thứ ... ngày ... tháng ... năm ...

TOÁN

**BÀI 18: ĐỀ-XI-MÉT VUÔNG, MÉT
VUÔNG, MI-LI-MÉT-VUÔNG**

Hương Thảo - Zalo

0972.115.126



A colorful illustration of a beach scene. In the background, there is a bright blue sky with a large, multi-colored rainbow arching across it. To the right, a large, smiling sun with rays is partially obscured by the fronds of a green palm tree. The ocean is a deep blue with white-capped waves. In the foreground, a sandy beach is dotted with small green plants, a blue seashell, and an orange starfish. A wooden archway made of brown logs frames a white sign. To the right of the sign, a cute girl with long brown hair, wearing a pink dress with white polka dots, stands with her hands clasped in front of her, smiling.

Tiết 1

ĐỀ-XI-MÉT-VUÔNG

Yêu cầu cần đạt



Nhận biết được đơn vị đo diện tích dm^2 , m^2 , mm^2



Thực hiện được việc chuyển đổi và tính toán với các số đo diện tích (mm^2 , cm^2 , dm^2 , m^2)



Giải quyết được việc ước lượng các kết quả đo lường trong một số trường hợp đơn giản.



Giải quyết được một số vấn đề thực tế liên quan đến đo diện tích.




**KHÁM
PHÁ**

Tớ sẽ lát nền ngôi nhà
đồ chơi bằng 100 hình
vuông cạnh 1 cm.



Vậy diện tích sàn nhà là
100 xăng-ti-mét vuông hay
1 đề-xi-mét vuông đấy?



Đề-xi-mét vuông là một đơn vị đo diện tích

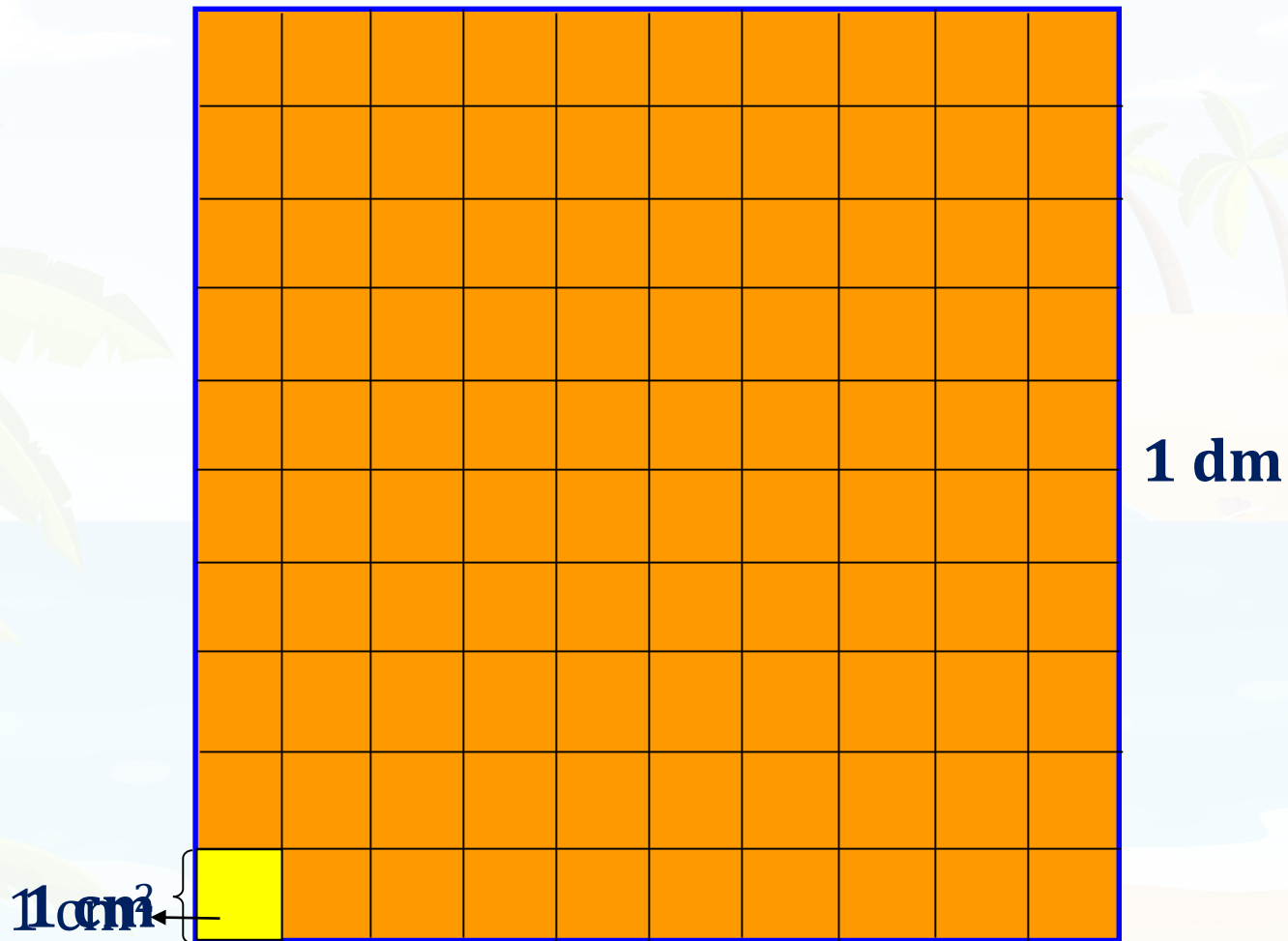
1 dm

1 dm²




- **Đề-xi-mét vuông là diện tích của một hình vuông có cạnh 1 dm.**
- **Đề-xi-mét vuông viết tắt là dm²**

Một Đề-xi-mét vuông (1dm^2)






Ta thấy hình vuông 1dm^2 gồm 100 hình vuông 1cm^2


$$1\text{dm}^2 = 100\text{cm}^2$$

A cartoon illustration of a girl with long brown hair and bangs, wearing a pink dress with white polka dots. She is standing on a sandy beach with palm trees and a blue ocean in the background. A yellow speech bubble with a pink border contains the text. In front of her are three inflatable rings: one with colorful sprinkles, one with pink and yellow swirls, and one with red, white, blue, and orange segments.

Các bạn hãy hoàn thành bài tập sau để chọn phao bơi giúp nhé!

1 Hoàn thành bảng sau theo mẫu:

Đọc	Viết
Hai mươi tư đề-xi-mét vuông	24 dm ²
Ba trăm bốn mươi đề-xi-mét vuông	 ?
 ?	1 005 dm ²
Năm nghìn đề-xi-mét vuông	 ?



Mình đã lựa chọn được phao bơi phù hợp. Cảm ơn các bạn rất nhiều. Giờ thì hoàn thành BT2 để giúp mình chọn đồ bơi nhé!

2 Số?


Cách chuyển đổi: $1 \text{ dm}^2 = 100 \text{ cm}^2$

a) $3 \text{ dm}^2 = 300 \text{ cm}^2$ $300 \text{ cm}^2 = 3 \text{ dm}^2$

b) $6 \text{ dm}^2 = 600 \text{ cm}^2$ $600 \text{ cm}^2 = 6 \text{ dm}^2$

$6 \text{ dm}^2 50 \text{ cm}^2 = 650 \text{ cm}^2$

Các em kiểm tra kết quả nhé!



**Bộ đồ bơi rất đáng yêu. Cảm
ơn các bạn nhiều nhé!**

Các bạn hãy giải bài tập sau để giúp mình xây lâu đài cát nhé!



3 Quan sát hình vẽ rồi chọn câu trả lời đúng.



2 dm



- A. Diện tích hình vuông lớn hơn diện tích hình chữ nhật
- B. Diện tích hình vuông bằng diện tích hình chữ nhật
- C. Diện tích hình vuông bé hơn diện tích hình chữ nhật

3 Quan sát hình vẽ rồi chọn câu trả lời đúng.



2 dm



80 cm

5 cm




Để so sánh được diện tích hai hình ta phải làm gì?

Áp dụng các công thức:

Diện tích hình chữ nhật = chiều dài \times chiều rộng;

Diện tích hình vuông = cạnh \times cạnh.





2 dm



80 cm

5 cm

Đáp án:

Diện tích hình chữ nhật là: $80 \times 5 = 400 \text{ cm}^2$

Diện tích hình vuông là:

$$2 \times 2 = 4 \text{ (dm}^2\text{);}$$

$$4 \text{ dm}^2 = 400 \text{ cm}^2.$$


3 Quan sát hình vẽ rồi chọn câu trả lời đúng.



2 dm



- A. Diện tích hình vuông lớn hơn diện tích hình chữ nhật
- B. Diện tích hình vuông bằng diện tích hình chữ nhật
- C. Diện tích hình vuông bé hơn diện tích hình chữ nhật

A vibrant cartoon illustration of a tropical beach scene. In the foreground, a young girl with long brown hair, wearing a blue dress with white flowers, stands on the sand. She has a joyful expression with rosy cheeks and is waving her hand. To her right is a large, multi-tiered sandcastle with a red flag on top. The background features a bright blue ocean with white waves, a clear blue sky with fluffy white clouds, and several palm trees with green fronds and brown coconuts. A large, reddish-brown rock formation is visible in the distance. A yellow speech bubble with a red border is positioned above the girl, containing Vietnamese text.

Lâu đài đẹp quá! Cảm ơn các bạn đã giúp mình xây lâu đài nhé!

A colorful illustration of a beach scene. In the background, a bright sun with rays is partially obscured by a green palm tree. A vibrant rainbow arches across the blue sky, which is dotted with white clouds. The ocean waves are visible in the distance. In the foreground, a wooden archway frames a white sign. To the right of the sign, a cute girl with long brown hair, wearing a pink dress with white polka dots, stands with her hands clasped and a happy expression. The ground is sandy with some small green plants and a blue seashell.

**UẬN
DỤNG**



$2 \text{ dm}^2 = \dots? \text{ cm}^2$

A

20

B

2 000

C

200

D

2



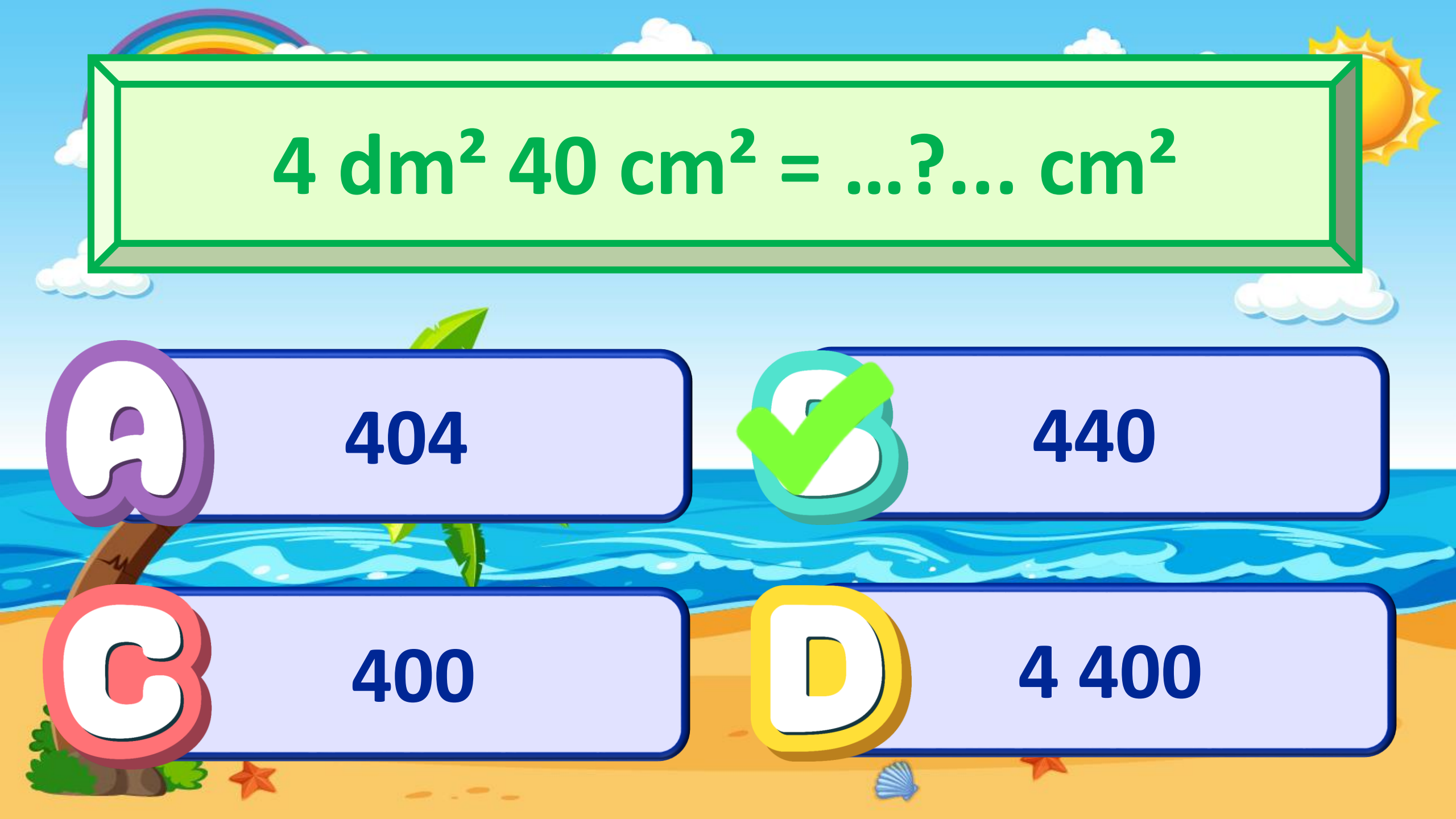
$800 \text{ cm}^2 = \dots? \text{ dm}^2$

A 8 000

B 80

C 800

D 8


$$4 \text{ dm}^2 40 \text{ cm}^2 = \dots? \dots \text{ cm}^2$$

A 404

B 440

C 400

D 4 400

DẶN DÒ

Giáo viên điền vào đây

Giáo viên điền vào đây

Giáo viên điền vào đây

Giáo viên điền vào đây

TẠM BIỆT VÀ
HẸN GẶP LẠI!

